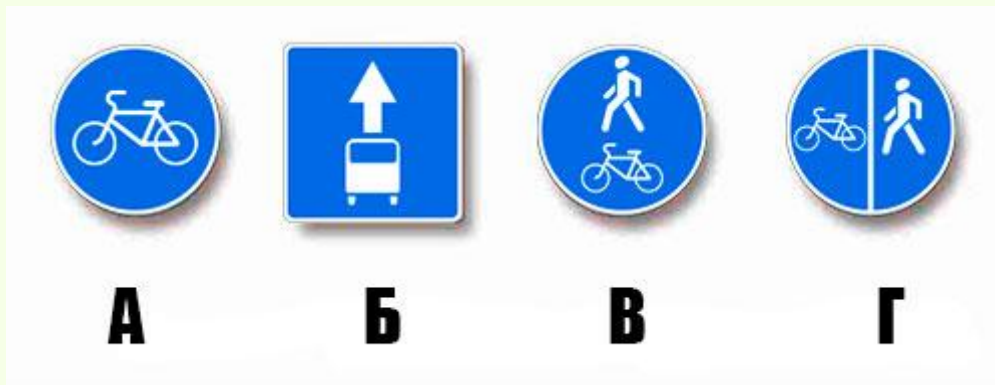


Новые Вопросы, впервые включенные в
ЭКЗАМЕНАЦИОННЫЕ БИЛЕТЫ ГИБДД
для категорий «А», «В», «М» и подкатегорий «А1», «В1».
(Введены с 01 сентября 2016 года).

БИЛЕТ 1. Вопрос 4

Какие из указанных знаков запрещают движение водителям мопедов?



1. Только А.
2. Только Б.
3. В и Г.
4. Все.

Комментарий:

Все указанные знаки запрещают движение водителям мопедов. Знак 5.14 (знак Б) «Полоса для маршрутных транспортных средств» используется для обозначения полосы, предназначенной для движения только маршрутных ТС, велосипедистов и ТС, используемых в качестве легкового такси. Знак 4.4.1 (знак А) «Велосипедная дорожка», 4.5.2 «Пешеходная и велосипедная дорожка с совмещенным движением» (знак В) и 4.5.4 «Пешеходная и велосипедная дорожка с разделением движением» (знак Г) движение мопедов также не предусматривает. (п. 1.2 «Велосипедная дорожка»).

Ответ – 4

БИЛЕТ 1. Вопрос 7

Водитель обязан подавать сигналы световыми указателями поворота (рукой):

1. Перед началом движения или перестроением.
2. Перед поворотом или разворотом.
3. Перед остановкой.
4. Во всех перечисленных случаях.

Комментарий:

Перед началом движения, перестроением, поворотом (разворотом) и остановкой водитель обязан подавать сигналы световыми указателями поворота соответствующего направления, а если они отсутствуют или неисправны - рукой. (п. 8.1).

Ответ – 4

БИЛЕТ 3. Вопрос 6

При повороте направо Вы:



1. Имеете право проехать перекресток первым.
2. Должны уступить дорогу только пешеходам.
3. Должны уступить дорогу автомобилю с включенными проблесковым маячком и специальным звуковым сигналом, а также пешеходам.


Комментарий:

Водитель автомобиля с включенными проблесковым маячком синего цвета и специальным звуковым сигналом имеет преимущество перед другими участниками движения (п. 3.1). Значит, Вы должны уступить ему дорогу и только после этого можете повернуть направо, уступая дорогу также и пешеходам (пп. 3.2 и 13.1).

Ответ – 3

БИЛЕТ 5. Вопрос 12

Кто из водителей нарушил правила стоянки?



1. Оба.
2. Только водитель автомобиля А.
3. Только водитель автомобиля Б.
4. Никто не нарушил.

Комментарий:

Ставить ТС на стоянку разрешается в один ряд параллельно краю проезжей части. Под углом к краю проезжей части допускается постановка ТС при наличии знака 6.4 с одной из табличек 8.6.4 - 8.6.9 , а также линий дорожной разметки (п. 12.2).

Ответ – 2**БИЛЕТ 5. Вопрос 19**

Как следует поступить водителю при высадке из автомобиля, стоящего у тротуара или на обочине?

1. Обойти автомобиль спереди.
2. Обойти автомобиль сзади.
3. Допустимы оба варианта действий.

Комментарий:

Для обеспечения безопасности при высадке водителя из автомобиля, стоящего у тротуара или на обочине, ему следует обойти автомобиль сзади, чтобы иметь возможность видеть ТС, движущиеся в попутном направлении.

Ответ – 2**БИЛЕТ 6. Вопрос 17**

В каких случаях водители мопедов нарушают Правила?

1. Только если управляют мопедом, не держась за руль хотя бы одной рукой.
2. Только если двигаются по дороге без застегнутого мотошлема.
3. В обоих перечисленных случаях.

Комментарий:

По своим техническим характеристикам мопеды занимают промежуточное положение между велосипедами и мотоциклами. Поэтому некоторые требования к их водителям совпадают с требованиями к велосипедистам и водителям мотоциклов. Так, водителям мопедов, как и велосипедистам, запрещено управлять, не держась хотя бы одной рукой за руль. С водителями мотоциклов водителей мопедов объединяет необходимость двигаться по дороге в застегнутом мотошлеме, поскольку несмотря на небольшую скорость движения мопедов (до 50 км/ч) при ДТП можно получить тяжелую травму (п. 24.8).

Ответ – 3**БИЛЕТ 6. Вопрос 20**

Установленный факт употребления водителем вызывающих алкогольное опьянение веществ определяется наличием в его организме абсолютного этилового спирта в концентрации, превышающей:

1. 0,10 миллиграмма на один литр выдыхаемого воздуха.
2. 0,16 миллиграмма на один литр выдыхаемого воздуха.
3. 0,25 миллиграмма на один литр выдыхаемого воздуха.

Комментарий:

Употребление водителем веществ, вызывающих алкогольное или наркотическое опьянение, либо психотропных или иных вызывающих опьянение веществ запрещается. Установленный факт употребления вызывающих алкогольное опьянение веществ определяется наличием в организме водителя абсолютного этилового спирта в концентрации, превышающей возможную суммарную погрешность измерений, а именно 0,16 миллиграмма на один литр выдыхаемого воздуха (Примечание к ст. 12.8 КоАП).

Ответ – 2**БИЛЕТ 7. Вопрос 10**

С какой скоростью мотоциклам разрешается движение вне населенных пунктов на всех дорогах?

1. Не более 70 км/ч.
2. Не более 90 км/ч.
3. Не более 110 км/ч.

Комментарий:

Вне населенных пунктов мотоциклам разрешается движение на всех дорогах со скоростью не более 90 км/час.

Ответ – 2**БИЛЕТ 9. Вопрос 17**

Водителям мопедов разрешено двигаться:

1. Только по правому краю проезжей части в один ряд.
2. Только по обочине, если не создаются помехи пешеходам.
3. Только по полосе для велосипедистов.
4. Во всех перечисленных случаях.

Комментарий:

С учетом конструктивной скорости мопедов (не более 50 км/ч) их водители должны двигаться по полосе для велосипедистов, выделенной знаками и разметкой ("Полоса для велосипедистов", п. 1.2), а при ее отсутствии - только в один ряд по правому краю проезжей части или по обочине, не создавая помех пешеходам (п. 24.7).

Ответ – 4

БИЛЕТ 11. Вопрос 4

До какого места действует требование данного знака?



1. До ближайшего по ходу движения перекрестка.
2. До места установки знака "Конец зоны с ограничением максимальной скорости".
3. До конца населенного пункта.

Комментарий:

Знак 5.31 «Зона с ограничением максимальной скорости» относится к так называемым зональным знакам, требования которых действуют на всей территории (участке дороги) до выезда из зоны, обозначенной знаком 5.32 «Конец зоны с ограничением максимальной скорости».

Ответ – 2

БИЛЕТ 12. Вопрос 4

Какие из указанных знаков разрешают движение мопедов?



А



Б



В



Г

5. Только В.
6. Только Г.
7. Б, В и Г.
8. Все.

Комментарий:

Знаки А (5.1 «Автомагистраль») и Б (5.3 «Дорога для автомобилей») обозначают дороги, по которым движение мопедов запрещено (п. 16.1). Знак Г (3.9 «Движение на велосипедах запрещено») также запрещает движение мопедов. Только знак В (3.5 «Движение мотоциклов запрещено») не ограничивает движение мопедов.

Ответ – 1

БИЛЕТ 13. Вопрос 5

Какой пешеходный переход обозначает данная разметка?



1. Только регулируемый.
2. Только нерегулируемый.
3. Любой.

Комментарий:

Данная разметка 1.14.1 может использоваться для обозначения как регулируемых, так и нерегулируемых пешеходных переходов.

Ответ – 3

БИЛЕТ 16. Вопрос 6

Как следует поступить водителю при переключении такого сигнала светофора?



1. При включении красного сигнала повернуть направо, уступая дорогу другим участникам движения.
2. При включении зеленого сигнала продолжить движение только направо.
3. Указанные действия являются правильными в обоих случаях.

Комментарий:

На рисунке светофор, все сигналы которого выполнены в виде стрелок. Они имеют то же значение, что и круглые сигналы соответствующего цвета, но распространяют свое действие только на направление, указанное стрелкой, то есть в данном случае они регулируют движение направо. Для того, чтобы повернуть направо нужно дождаться включения зеленой стрелки (п. 6.3).

Ответ – 2

БИЛЕТ 16. Вопрос 18

Запрещается эксплуатация легкового автомобиля, если стояночная тормозная система не обеспечивает неподвижное состояние автомобиля в снаряженном состоянии на уклоне:

1. До 16% включительно.
2. До 23% включительно.
3. До 31% включительно.

Комментарий:

Если стояночная тормозная система легкового автомобиля не обеспечивает неподвижное состояние автомобиля в снаряженном состоянии (имеется в виду определенная изготовителем масса комплектного ТС с водителем без нагрузки, включающая не менее 90% топлива) на уклоне до 23% включительно, то эксплуатация такого ТС запрещается (Перечень, п. 1.5).

Ответ – 2

БИЛЕТ 18. Вопрос 10

В каких из перечисленных случаев разрешается движение в населенных пунктах со скоростью не более 20 км/час?

1. При движении в жилых зонах.
2. При движении на дворовых территориях.
3. В обоих.

Комментарий:

В жилых зонах и на дворовых территориях разрешено движение пешеходов по проезжей части, причем они имеют преимущество (п. 17.1). Чтобы обеспечить их безопасность, скорость ТС ограничена до 20 км/час (п. 10.2).

Ответ – 3

БИЛЕТ 18. Вопрос 14

Вы намерены выполнить разворот. Ваши возможные действия?



1. Отказаться от преимущества в движении и приступить к развороту после проезда легкового автомобиля.
2. Выехать на перекресток первым и, уступив дорогу легковому автомобилю, закончить разворот.
3. Допускаются оба варианта действий.

Комментарий:

Поскольку легковой автомобиль находится слева, Вы можете выехать на перекресток равнозначных дорог первым. При развороте легковой автомобиль станет для Вас «помехой справа» и его необходимо будет пропустить, после чего закончить разворот (п. 13.11). С учетом этого Вы можете отказаться от преимущества в движении и начать разворот после проезда этого автомобиля.

Ответ – 3

БИЛЕТ 18. Вопрос 18

За какие административные правонарушения в области дорожного движения предусмотрено наказание в виде обязательных работ?

1. За управление транспортным средством водителем, не имеющим права управления транспортным средством (за исключением учебной езды).
2. За управление транспортным средством водителем, лишенным права управления транспортными средствами.
3. За передачу управления транспортным средством лицу, заведомо не имеющему права управления (за исключением учебной езды) или лишенному такого права.
4. За все перечисленные правонарушения.

Комментарий:

В КоАП административное наказание в виде обязательных работ предусмотрено за управление транспортным средством водителем, лишенным права управления транспортными средствами (ч. 2 ст. 12.7 КоАП).

Ответ – 2

БИЛЕТ 19. Вопрос 4

Какие из указанных знаков разрешают выполнить разворот?



А



Б



В

1. Только А.
2. Б и В.
3. Все.

Комментарий:

Знак А (3.18.2 "Поворот налево запрещен") запрещает только поворот, но не разворот. Знаки Б (5.7.2 «Выезд на дорогу с односторонним движением») и В (5.13.2 «Выезд на дорогу с полосой для маршрутных транспортных средств») также не запрещают разворот на перекрестках таких дорог.

Ответ – 3

БИЛЕТ 19. Вопрос 17

Какие внешние световые приборы должны быть включены в темное время суток и в условиях недостаточной видимости независимо от освещения дороги, а также в тоннелях на буксируемых механических транспортных средствах?

1. Дневные ходовые огни.
2. Габаритные огни.
3. Задние противотуманные фонари.

Комментарий:

В темное время суток и в условиях недостаточной видимости независимо от освещения дороги, а также в тоннелях на буксируемых ТС и прицепах должны быть включены габаритные огни (п. 19.1).

Ответ – 2

БИЛЕТ 21. Вопрос 12

В каком месте Вам следует поставить автомобиль на стоянку с правой стороны дороги?



1. Непосредственно перед пересечением проезжих частей.
2. Непосредственно после пересечения проезжих частей.
3. Не ближе 5 м от края пересекаемой проезжей части.

Комментарий:

Поставив автомобиль на стоянку непосредственно перед пересечением проезжих частей или после него, Вы ограничите видимость для выезжающих из переулка ТС. Именно поэтому Правила запрещают остановку и стоянку ТС ближе 5 м от края пересекаемой проезжей части (пп. 12.4 и 12.5).

Ответ – 3**БИЛЕТ 22. Вопрос 12****Разрешено ли водителю грузового автомобиля остановиться в этом месте?**

1. Разрешено.
2. Разрешено, если разрешенная максимальная масса автомобиля не более 3,5 т.
3. Запрещено.

Комментарий:

Знак 6.4 «Парковка (парковочное место)» с табличкой 8.6.3 «Способ постановки транспортного средства на стоянку» не запрещает остановку любых ТС на проезжей части (п. 12.2).

Ответ – 1**БИЛЕТ 22. Вопрос 16****Водители должны уступать дорогу другим участникам движения:**

1. При выезде из жилой зоны.
2. При выезде с дворовой территории.
3. В обоих перечисленных случаях.

Комментарий:

При выезде из жилой зоны водители должны уступать дорогу другим участникам движения (п. 17.3). Это требование распространяется на дворовые территории (п. 17.4).

Ответ – 3

БИЛЕТ 23. Вопрос 17

В каком случае при движении в светлое время суток недостаточно включения дневных ходовых огней?

1. Только при видимости дороги менее 300 м в условиях тумана, дождя или снегопада.
2. Только при движении в туннелях.
3. В обоих перечисленных случаях.


Комментарий:

Яркость светодиодных дневных ходовых огней считается достаточной для обозначения ТС вместо ближнего света фар при движении в светлое время суток (п. 19.5). Однако при движении в условиях недостаточной видимости (видимость дороги менее 300 м в условиях тумана, во время дождя, снегопада - п. 1.2) и в туннелях яркость дневных ходовых огней не обеспечивает видимости ТС спереди. Поэтому водитель должен включить с учетом ситуации фары дальнего или ближнего света (пп. 19.1 и 19.2).

Ответ – 3

БИЛЕТ 24. Вопрос 12

Кто из водителей нарушил правила стоянки?



1. Оба.
2. Только водитель автомобиля А.
3. Только водитель автомобиля Б.
4. Никто не нарушил.

Комментарий:

В данной ситуации необходимо руководствоваться требованием знака 6.4 "Парковка (парковочное место)" с табличкой 8.6.5 "Способ постановки транспортного средства на стоянку" (п. 12.2). Требование заключается в том, что автомобили должны быть поставлены на стоянку перпендикулярно тротуару именно так, как это изображено на табличке 8.6.5 (Приложение 1). Следовательно, водитель автомобиля А нарушил правила стоянки.

Ответ – 2

БИЛЕТ 25. Вопрос 10

Каким автомобилям и в каких случаях разрешается движение вне населенных пунктов со скоростью не более 90 км/ч?

1. Легковым автомобилям при буксировке прицепа на автомагистралях.
2. Легковым автомобилям и грузовым автомобилям с разрешенной максимальной массой не более 3,5 т на всех дорогах, кроме автомагистралей.
3. Всем перечисленным автомобилям в указанных случаях.

Комментарий:

Вне населенных пунктов со скоростью не более 90 км/ч разрешается движение автомобилям в следующих случаях: легковым автомобилям — на всех дорогах, кроме автомагистралей, а на автомагистралях — только при буксировке прицепа; грузовым автомобилям с разрешенной максимальной массой не более 3,5 т — на всех дорогах, кроме автомагистралей (п. 10.3).

Ответ - 3

Билет 25. Вопрос 19

Как зависит величина тормозного пути транспортного средства от скорости движения?

1. Не зависит.
2. Увеличивается пропорционально скорости.
3. Увеличивается пропорционально квадрату скорости.

Комментарий:

Тормозной путь зависит от скорости движения, значений коэффициента сцепления шины с дорогой и некоторых других параметров. Так, величина тормозного пути прямо пропорциональна величине квадрата скорости движения и обратно пропорциональна значениям коэффициента сцепления шины с дорогой (для сухого асфальтобетонного покрытия он равен в среднем 0,7; для мокрого — 0,4; для укатанного снежного покрытия — 0,2; для обледенелого покрытия — 0,1).

Ответ - 3

БИЛЕТ 28. Вопрос 5

Движение по предназначенной для велосипедистов полосе проезжей части, которая обозначена данной разметкой, разрешается:



4. Только мопедам.
5. Только мотоциклам с рабочим объемом двигателя внутреннего сгорания, не превышающим 125 см³, и максимальной мощностью, не превышающей 11 квт.
6. Всем перечисленным транспортным средствам.

Комментарий:

Разметка 1.23.3 обозначает полосу для велосипедистов, по которой наряду с велосипедистами имеют право двигаться только водители мопедов (п. 24.7).

Ответ – 1

БИЛЕТ 29. Вопрос 3

Разрешено ли Вам выполнить обгон?



1. Разрешено.
2. Разрешено, если скорость мотоцикла не более 30 км/ч.
3. Запрещено.

Комментарий:

Знак 3.20 "Обгон запрещен" допускает в зоне своего действия обгон двухколесных мотоциклов без бокового прицепа, мопедов, тихоходных ТС, а также велосипедов и гужевых повозок.

Ответ – 1

БИЛЕТ 30. Вопрос 19

Для предупреждения скатывания автомобиля с механической трансмиссией при кратковременной остановке на подъеме следует:

1. Привести в действие стояночный тормоз.
2. Включить первую передачу или передачу заднего хода.
3. Перевести рычаг переключения передач в нейтральное положение.

Комментарий:

Для того, чтобы предотвратить самопроизвольное скатывание автомобиля с механической трансмиссией при кратковременной остановке на подъеме, следует привести в действие стояночный тормоз, не выключая при этом сцепление.

Ответ - 1

Билет 31. Вопрос 1

Водительское удостоверение, подтверждающее право на управление транспортными средствами категории "А", подтверждает также право на управление транспортными средствами:

4. Подкатегории "А1".
5. Подкатегории "В1" с мотоциклетной посадкой или рулем мотоциклетного типа.
6. Категории "М".
7. Всеми перечисленными транспортными средствами.

Комментарий:

В соответствии с п. 7 ст. 25 Федерального закона «О безопасности дорожного движения» водительское удостоверение, подтверждающее право на управление ТС категории «А», подтверждает также право на управление ТС подкатегории «А1», подкатегории «В1» с мотоциклетной посадкой или рулем мотоциклетного типа и категории «М».

Ответ - 4

БИЛЕТ 32. Вопрос 10

В каких случаях водителю запрещается движение со скоростью более 50 км/ч?

1. При управлении мопедом.
2. При буксировке механического транспортного средства.
3. Если соответствующий запрет установлен дорожным знаком "Ограничение максимальной скорости".
4. Во всех перечисленных случаях.

Комментарий:

Указанная скорость движения не может быть превышена в следующих случаях: мопедами из-за их максимальной конструктивной скорости (пп. 1.2 и 10.5); другими ТС, если она ограничена знаком «Ограничение максимальной скорости»; при буксировке механических ТС (п. 10.4).

Ответ - 4

БИЛЕТ 33. Вопрос 6

В каких случаях необходимо уступить дорогу транспортному средству, имеющему нанесенные на наружные поверхности специальные цветографические схемы?

1. Если его водитель включил проблесковый маячок синего цвета и специальный звуковой сигнал.
2. Если его водитель включил проблесковый маячок синего цвета.
3. Во всех случаях.

Комментарий:

Вы должны уступить дорогу ТС с нанесенными на наружной поверхности специальными цветографическими схемами только в том случае, если его водитель включил проблесковый маячок синего цвета и специальный звуковой сигнал (п. 3.1).

Ответ - 1**БИЛЕТ 33. Вопрос 10**

Разрешается ли движение транспортных средств по разделительным полосам, обочинам, тротуарам и пешеходным дорожкам для объезда препятствия?

1. Разрешается.
2. Разрешается только по разделительным полосам и обочинам.
3. Разрешается только по тротуарам и пешеходным дорожкам.
4. Запрещается.

Комментарий:

В соответствии с п. 9.9 Правил запрещается движение ТС по разделительным полосам и обочинам, тротуарам и пешеходным дорожкам, за исключением разрешенных случаев остановки и стоянки на обочине или тротуаре (пп. 12.1 и 12.2).

Ответ - 4**БИЛЕТ 33. Вопрос 16**

Кто из водителей нарушает Правила?



1. Водители грузового автомобиля с разрешенной максимальной массой 3 т и мопеда.
2. Только водитель мопеда.
3. Никто не нарушает.


Комментарий:

На любых дорогах, имеющих для движения в данном направлении три или более полосы, в том числе и на автомагистралях, грузовые автомобили с разрешенной максимальной массой более 2,5 т могут занимать крайнюю левую полосу только для поворота налево или разворота (п. 9.4). Движение мопедов на автомагистралях Правила запрещают (п. 16.1). Таким образом, нарушителями являются водители грузового автомобиля и мопеда.

Ответ - 1

БИЛЕТ 34. Вопрос 10

Кто из водителей мопедов занял правильное положение на полосе движения?



1. Оба.
2. Только водитель мопеда Б.
3. Только водитель мопеда А.

Комментарий:

В соответствии с пунктом 24.7 Правил водители мопедов должны двигаться по правому краю проезжей части в один ряд.

Ответ - 2

БИЛЕТ 34. Вопрос 18

Уголовная ответственность предусмотрена за управление транспортным средством, не повлекшее причинение тяжкого вреда здоровью или смерть человека, лицом, находящимся в состоянии опьянения, если оно ранее было подвергнуто административному наказанию:

4. За управление транспортным средством в состоянии опьянения.
5. За невыполнение законного требования уполномоченного должностного лица о прохождении медицинского освидетельствования на состояние опьянения.
6. За совершение любого из перечисленных правонарушений.

Комментарий:

В ст. 264 УК предусмотрена уголовная ответственность за управление механическим транспортным средством, не повлекшее причинение тяжкого вреда здоровью или смерть человека, лицом, находящимся в состоянии опьянения, которое было подвергнуто административному наказанию за управление транспортным средством в состоянии опьянения или за невыполнение законного требования уполномоченного должностного лица о прохождении медицинского освидетельствования на состояние опьянения.

Ответ - 3

БИЛЕТ 37. Вопрос 17

Водителям мопедов запрещается поворачивать налево или разворачиваться:

1. Только при движении по дороге с трамвайным движением.
2. Только при движении по дороге, имеющей более одной полосы для движения в данном направлении.
3. В обоих перечисленных случаях.

Комментарий:

Поскольку Правила разрешают движение мопедов только по правому краю проезжей части в один ряд (п. 24.7), использовать для движения другие полосы нельзя. Поэтому поворачивать налево или разворачиваться на дорогах с трамвайным движением или на дорогах, имеющих более одной полосы для движения в данном направлении, водителям мопедов запрещено (п. 24.8).

Ответ - 3

БИЛЕТ 39. Вопрос 12

Разрешается ли Вам остановка в указанном месте?



1. Разрешается.
2. Разрешается только для посадки или высадки пассажиров.
3. Запрещается.

Комментарий:

Вы не можете остановиться в указанном месте, так как знак 5.11.2 «Дорога с полосой для велосипедистов» и разметка 1.23.3 (изображение велосипеда) информируют о том, что на этой дороге движение велосипедов и мопедов осуществляется по велосипедной полосе навстречу общему потоку ТС. Другим ТС движение по такой полосе и остановка на ней запрещены (пп. 9.9 и 12.4).

Ответ - 3

Кто из водителей занял правильное положение на полосе движения?



1. Оба.
2. Только водитель мопеда, занимающего левое положение на полосе движения.
3. Только водитель мотоцикла, занимающего правое положение на полосе движения.
4. Никто из водителей.

Комментарий:

На такой дороге (без обочин и полосы для велосипедистов) мопеды могут двигаться только по правому краю проезжей части в один ряд (п. 24.7). Водители мотоциклов могут выбирать для движения в населенном пункте любую полосу (п. 9.4). Мотоциклом без бокового прицепа с учетом их габаритов и необходимых безопасных интервалов Правила не запрещают двигаться по полосе в два ряда.

Ответ – 3

Как следует поступить водителю при посадке в автомобиль, стоящий у тротуара или на обочине?

1. Обойти автомобиль спереди.
2. Обойти автомобиль сзади.
3. Допустимы оба варианта действий.

Комментарий:

Для обеспечения безопасности при посадке водителя в автомобиль, стоящий у тротуара или на обочине, ему следует обойти автомобиль спереди, чтобы иметь возможность видеть ТС, движущиеся в попутном направлении.

Ответ – 1